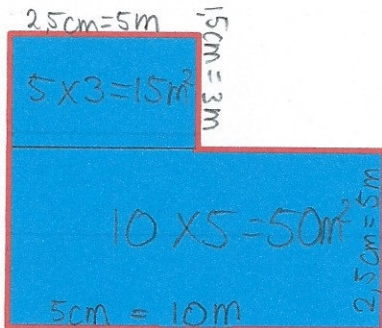


WERKBLAD INHOUD BEREKENEN



Hoeveel liter water zit er in deze zwembaden?



Wat is de inhoud van dit zwembad?

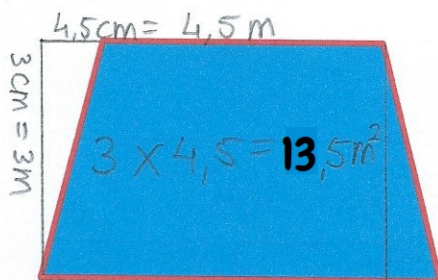
Oppervlakte zwembad: 65 m²

Inhoud zwembad: 65 m³

Inhoud zwembad: 65.000 liter

Schaal = 1:200

Diepte = 1 meter



Wat is de inhoud van dit zwembad?

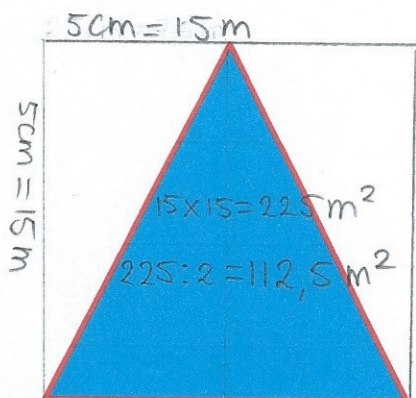
Oppervlakte zwembad: 13,5 m²

Inhoud zwembad: 6,75 m³

Inhoud zwembad: 6.750 liter

Schaal = 1:100

Diepte = 0,5 meter



Wat is de inhoud van dit zwembad?

Oppervlakte zwembad: 112,5 m²

Inhoud zwembad: 225 m³

Inhoud zwembad: 225.000 liter

Schaal = 1:300

Diepte = 2 meter